



۶- قسمت های الف را به طور صحیح به قسمت ب وصل کنید

الف ب

۱	کنار سنگ های آتشفشانی	نمک
	آب دریا	گوگرد
	لابلای برخی از سنگ ها و خاک ها	طلا
	در دهانه آتش فشان فعال و نیمه فعال	الماس

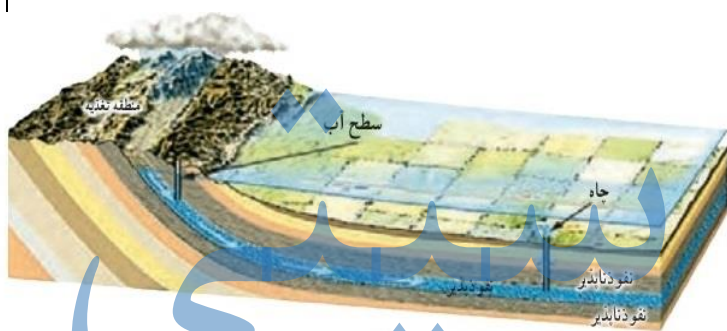
۷- کدام ویژگی مربوط به فلزات و کدامیک مربوط به نافلزات است؟

شکننده : نارسانای الکتریکی: چکش خواری: سطح براق:

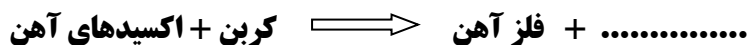
۸- راهکارهای حفاظت از منابع طبیعی را نام ببرید و برای یکی از آنها مثال بزنید

۹- ظروف چینی و سفالی چگونه تهیه می شوند؟

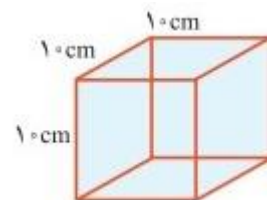
۱۰- نوع سفره های آب زیر زمینی (آبخوان) را در هر یک از شکل های زیر مشخص کنید



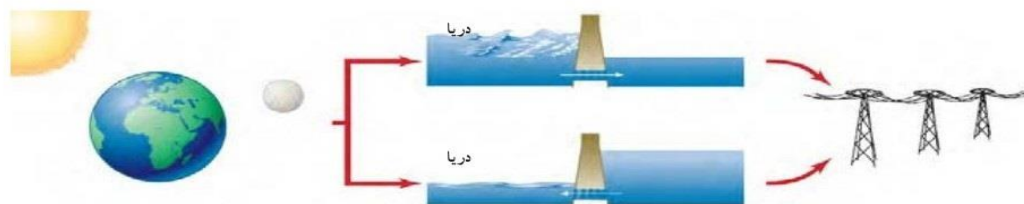
۱۱- واکنش های زیر را کامل کنید



۱۲- در شکل زیر الف) حجم مکعب را محاسبه کنید ب) اگر جرم آن ۳۰۰۰ گرم باشد چگالی آن را بدست آورید



۱۳- کدامیک جزر و کدامیک مد است و شکل زیر چه کاربردی از این دو پدیده را نشان میدهد؟



موفق باشید